

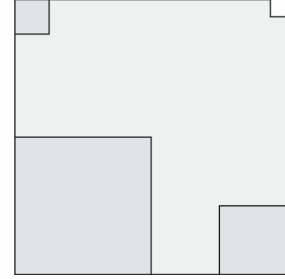
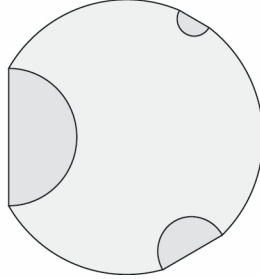
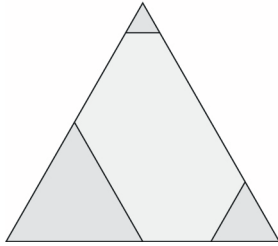


Az Iskola neve:  
A Tanuló neve:  
Készlet: háromszög, kör, négyzet  
További eszközanyag: papír, ceruza  
Dátum:

**TANULÓ**  
PUSE Feladat Sorszám  
**B**  
**314**

**A feladat leírása:**

Ellenőrizd, hogy minden készletben megvan-e minden elem!



**A feladat megoldása, megoldások:**

Milyen szempont/elnevezés alapján tudod csoportosítani az alapelemeket és a kisebb részeit? \_\_\_\_\_

\_\_\_\_\_

Hány alapelem van összesen a készletben? \_\_\_\_\_

Írd be ezt a számot színekre bontva: \_\_\_\_\_

Írd be a számot a kisebb formákra bontva: \_\_\_\_\_

\_\_\_\_\_

Írd be a számot kisebb formákra és színekre bontva: \_\_\_\_\_

\_\_\_\_\_

**Megjegyzés / Önértékelés:**